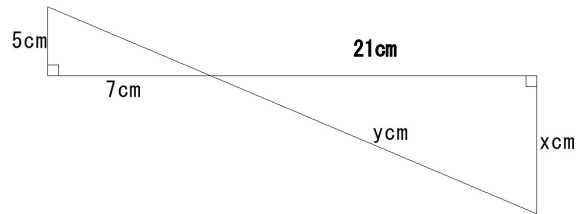


<確認テスト>

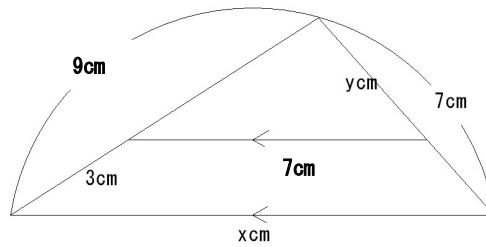
(1) 次の各図中の  $x$ ,  $y$  の長さを求めなさい。

①



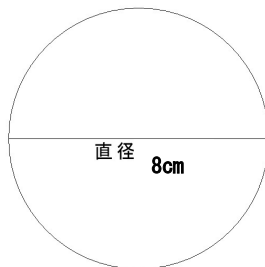
※直角三角形では「三平方の定理」が成り立ちます。

②



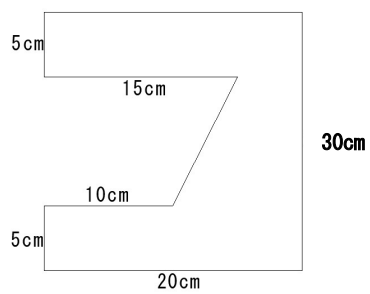
(2) 次の各図形の面積を求めなさい。

①



※円周率は 3.14 で計算してください。

②



※いくつかの長方形や三角形に分けて考えよう